

VORSTENBOSCH

'KWIST

JAARGANG
2019



Teamnaam:

Teamnummer:

Categorie Joker:

In te vullen door organisatie:

Tijd inlevering: **Nr.:**



Voor je ligt het lijvige quizboek van de vierde editie van Vorstenbosch 'kwist, met daarin weer veel puzzels, raadsels en opdrachten. Lees het boek goed door, want we verwachten ook dit jaar op verschillende tijdstippen een vertegenwoordiger van je team op verschillende locaties. Ook moet je dit jaar weer een aantal antwoorden op de meegeleverde USB-stick zetten. Natuurlijk proberen we tussendoor ook nog een aantal 'zenuwcentra' te bezoeken. Omdat we weer veel geheime opdrachten op locatie hebben, zullen we niet in de gelegenheid zijn om bij iedereen langs te komen.

Het wordt dus een drukke avond met daarin weer een aantal vernieuwende elementen. Een aantal zaken zijn echter als vanouds. Zo moet je ook dit jaar het ingevulde quizboek + enkele andere werkstukken weer op tijd inleveren bij bar De Ketel. En op tijd betekent nog steeds vóór klokslag middernacht. Het inleveren van het boek kun je dit jaar gerust met het hele team doen, want dan kun je gelijk aansluiten bij de afterparty in de Ketel.

Let op!

Bij categorie 11 moet je op bepaalde tijden ergens naar toe. Kom op tijd en neem je voucher mee, want dat is je entreebewijs!

NOS-TOS


Enkele vragen zullen vanavond live gesteld worden op radio NosTos. Dit is een digitale radiozender uit Vorstenbosch die alleen te beluisteren is via www.radiostonos.nl. Deze vragen zullen slechts één keer gesteld worden om ca. 19.15 / 20.15 / 22.15 en 23.15 uur. Verder is het mogelijk om verzoekjes aan te vragen voor jezelf of voor andere teams om die succes te wensen (of niet). Bel met Michel van Zuijlen 0413 288954.

Lever alles in!

Je hebt een tas gekregen met daarin een 'kwistboek, een USB-stick en een aantal andere zaken. Als je klaar bent, dien je de tas weer in te leveren met boek, de usb-stick en de eventueel in te leveren werkstukken.

Veel succes!

Het 'Kwist-team





Reglement

Voor het algemeen reglement verwijzen wij je naar de website www.vorstenboschkwist.nl.

Inleveren

Het boek netjes en duidelijk invullen en de pagina's op de juiste volgorde in het mapje plaatsen. Uiterlijk 00.00 uur bij Bar de Ketel, waar nog een afterparty zal plaatsvinden met DJ Wout en Joris.

Joker

Als je de kwis klaar hebt kun je bij 1 categorie de joker inzetten (vul dit in op het voorblad!). Deze verdubbelt de score.

Categorieën

1. Speule
2. Roaje mar
3. Op straat
4. Mi de muziek mee
5. Noar d'n dokter
6. Gezond boerenverstand
7. Ons durp
8. Vur de jong
9. Geleufde gij't
10. Joare nigentig
11. Geheime opdrachten



1. SPEULE

1.1

In 2018 stonden de Olympische Winterspelen centraal. Dit zorgde voor een aantal speciale momenten.

1.1.A

Voor Schulting waren de Olympische Winterspelen een hoogtepunt. Ze won goud op de 1000 meter. Haar opa en oma beleefden dit intensief mee. In de uitzending van Frylân Hjoed van 22 februari 2018 is dit te zien. Bekijk het filmpje van minuut 13.13 tot 13.24. Geef hieronder de vertaling in ABN.

“Wat is dit mooi. Dit heeft geen mens verwacht. Er was er niet één die had gedacht dat ze goud zou winnen op de 1000 meter.

Maar ze heeft het verdiend.”

1.1.B

Ook bij het langebaan schaatsen werden bij de Olympische Winterspelen door de Nederlandse schaatsploeg weer veel medailles gehaald. Hiervoor hebben de schaats(st)ers veel kilometers moeten afleggen. Hoeveel kilometer reden alle Nederlandse langebaan schaatsers en schaatssters totaal tijdens de officiële wedstrijden van de olympische spelen in Gangneung?

170.3894 km

1.2

In de wielersport gaat het niet altijd goed. Zo zijn er talrijke verhalen van bijzondere momenten binnen de sport op het internet te vinden. Hieronder enkele verhalen op een rij. Aan jullie de vraag in welke wedstrijd en in welk jaar dit is gebeurd?

1.2.A

In dit jaar hadden twee teamgenoten het idee om verstopperij te spelen. Ze maakten een scherpe bocht en gingen om het hoekje staan. Toen het peloton voorbij was, sloten ze weer aan.

Jaar: *2018*

Wielervedstrijd: *Giro d'italia*

1.2.B

Deze rit was 326 kilometer lang en werd gekenmerkt door het slechte weer. Tijdens deze bizarre tocht kwamen er slechts 20 wielrenners over de finish.

Jaar: *1926*

Wielervedstrijd: *Tour de france*



1. SPEULE

1.2.C

In dit jaar werd de langste ontsnapping op naam geschreven van een Franse wielrenner. Hij reed 253 kilometer aan kop.

Jaar: 1947

Wielervedstrijd: Tour de France

1.2.D

Tijdens deze rit zorgden de wielrenners niet voor het nieuws, maar werd de helikopter het gesprek van de dag. De helikopter vloog laag en zorgde er voor dat de dranghekken langs de kant begonnen te schuiven.

Jaar: 2018

Wielervedstrijd: Vuelta

1.2.E

In dit jaar verscheen er een Belgische wielrenner zonder fiets aan de start. Hij gaf aan dat hij met een geleende fiets deze etappe ook zou kunnen winnen. Na een bizarre rit won deze wielrenner de etappe.

Jaar: 1919

Wielervedstrijd: Ronde van Vlaanderen



1. SPEULE

1.3

Achter een succesvolle sporter staat een sterke partner. Hieronder zien jullie een aantal foto's. De vraag is: met welke topsporter hebben onderstaande personen een relatie?

1.3.A



Kiki Bertens

1.3.B



Joost Luiten

1.3.C



Matthijs de Ligt

1.3.D



Ireen Wust

1.3.E



Epke Zonderland



1. SPEULE

1.4 Voor de echte sportkenners testen we jullie kennis over 2018!

1.4.A Kiki Bertens viel in 2018 op vanwege haar goede spel en verschillende overwinningen. Wat zorgde er voor dat Kiki mocht starten op het eindtoernooi in Singapore dat op 21 oktober 2018 begon?

Simona Halep (nummer 1 van de wereld oktober 2018) moest afzeggen vanwege een rugblessure. Dit zorgde er voor dat Kiki nummer 8 werd en mee mocht doen aan het eindtoernooi.

1.4.B De vrouwen-volleyballers hadden na een plek in de halve finale op het EK een uitstekende vorm op het WK in Japan. Toch baalden ze van de verliespartij tegen China. Waarom baalden ze hier van?

Door verlies tegen China werd hun tegenstander in de halve finale Servie. Servie is de topfavoriet en moeilijker te verslaan. Wanneer ze hadden gewonnen, hadden ze tegen Italië gespeeld. Op papier een makkelijkere tegenstander.

1.4.C In april van 2018 kwamen verschillende voetballers in het nieuws vanwege een opmerkelijke actie. Voor welke competitie speelden deze voetballers en wat was de reden van hun actie?

Competitie: Serie A / Jupiler League

Reden van actie: Geweld tegen vrouwen te bestrijden en voorkomen / Maes reclame

1.4.D In de slotfase van de eerste vrije training in de World SBK klasse op het circuit van Nevers Magny crashte er een rijder. Wie was die rijder?

Tati Mercado



1. SPEULE

1.5

Bij onderstaande foto's zie je sportmomenten waarop sporters te zien zijn. Welke sporters zijn op deze foto's te zien? Noem voornaam en achternaam.

1.5.A



Eric Botteghin
Myron Boadu

1.5.B



Kazach Lutsenko
Jan Bakelant

1.5.C



Lonneke Sloetjes
Maret Balkestein-Grothues
Debby Stam-Pilon
Laura Dijkema

1.5.D



Nadine Broersen
Barbara Nwaba



1. SPEULE

1.6 Voor de thuiswedstrijden van Ajax mag één jeugdspeler laten zien wat hij kan. Hij moet de bal zo lang mogelijk hoog houden. Nu is het jullie beurt. Maak een filmpje waar een van jullie de bal zo vaak mogelijk hooghoudt (met de voet) en zet het op de USB-stick.

Sla het filmpje op onder de naam/code '1.6 bal hoog houden'

Team waarbij de bal het langst wordt hoog gehouden xx punten, het team wat als tweede eindigt xx punten, het team wat als derde eindigt xx punten. De rest xx punten voor het inleveren.

1.7 Het damesteam van de Vorstenbossche Boys heeft dit jaar de finale voor de KNVB beker gespeeld en gewonnen!

1.7.A Welke voetbalster van de Vorstenbossche boys won er al eerder een KNVB beker?

Telt niet mee

1.7.B Welke voetbalster van de Vorstenbossche boys kreeg een rode kaart tijdens de finale MO19?

Telt niet mee

1.7.C Wat was de reden van bovenstaande rode kaart?

Telt niet mee

1.8 Hieronder staan een aantal spelregels van bijzondere sporten. Aan jullie de taak om aan te geven om welke sport het gaat en uit welk land deze sport komt.

1.8.A Om deze sport te kunnen beoefenen heb je twee teams nodig van vier spelers. Het is de bedoeling om met een bal in het doelgebied van je tegenstander te gooien. Dit kan, in de seniorenteam, door maximaal drie worpen. De bal weegt 4 kilogram voor de heren en 2 kilogram voor de dames. Wie de meeste punten scoort is de winnaar. Een veld bij deze sport is in de zaal 36 bij 14 meter.

Sport: *Krachtbal*

Land van herkomst: *Belgie*



1. SPEULE

1.8.B

Deze sport speelt zich af op de bodem van het zwembad. Een team bestaat uit 6 veldspelers en maximaal 4 wisselers. Er mag bij deze sport niet met twee handen gespeeld worden en de wedstrijd wordt onder leiding van drie scheidsrechters gespeeld.

Sport: *Octopush/onderwaterhockey*

Land van herkomst: *Groot-Brittanie*

1.8.C

Met deze sport strijden twee spelers voor de winst. Om deze sport te winnen moet je de meeste punten halen in de vier disciplines. Je krijgt beperkt de tijd om je voor te bereiden op de verschillende disciplines, omdat de wedstrijden snel na elkaar worden gespeeld. Elke set wordt gespeeld tot 21 punten.

Sport: *Racketlon*

Land van herkomst: *Zweden of Finland*

1.8.D

Het veld bij deze sport wordt met een touw afgebakend. Doorsnee van het veld is ongeveer 150 meter. Woorden als run-out en retired out worden in het spel gebruikt. Het wordt gespeeld tussen twee elftallen.

Sport: *Cricket*

Land van herkomst: *Zuid-oost Engeland*

1.8.E

Bij deze sport moet de deelnemer onderhands gooien. Er wordt gebruik gemaakt van een rond voorwerp. De hoofdonderdelen van deze sport zijn: straat, veld en zetten.

Sport: *Klootschieten/kogelwerpen*

Land van herkomst: *Nederland*

1.9

Wekelijks verschijnt het clubblad van de Vorstenbossche Boys in de bus. Hoe grondig lees jij het voetbalboekje?

1.9.A

Wie was de pupil van de week tijdens de wedstrijd Vorstenbossche Boys- Avesteijn op zondag 21 oktober?

Ise Rijkers

1.9.B

Welke voetbalschoenen kocht Emiel van de Ven in 2018 bij de Decathlon?

Kipsta First 100 AG



1. SPEULE

1.9.C Welk bedrijf sponsorde het eerste reclamebord langs het hoofdveld van de Vorstenbossche Boys?

Machinaal timmerbedrijf Ad Donkers

1.9.D Maak de volgende zin af: 'Klok verzetten.....'

...is extra kleren aantrekken.

1.9.E Wie heeft bij het spel 'Blinde Lotto' van de Vorstenbossche Boys het nummer 33?

Frans Geenen



1. SPEULE

1.10

Vroeger spaarden we ook al voetbalplaatjes.

Weet je nog welke oud-voetballers op onderstaande tien plaatjes staan?

1.10.A



Guus Hiddink

1.10.B



Jan Mulder

1.10.C



Frank Kramer

1.10.D



Abe van der Ban

1.10.E



Sjaak van der Pas

1.10.F



Joop van Daele

1.10.G



Ralf Edstrom

1.10.H



Martin Jol

1.10.I



Bert van Marwijk

1.10.J



Jan van Beveren



2. ROAJE MAR

2.1

Puzzelen maar!

In de tas zitten een aantal puzzelstukken. Samen vormen deze maar op één enkele manier een complete puzzel. Als je deze hebt gemaakt, mag je hem hieronder in het kader plakken:



Puzzel goed gemaakt is (xxx punten)



2. ROAJE MAR

2.2

Wereldelftal

De onderstaande 11 shirts vormen samen het FIFA Wereldelftal van het jaar, maar de rugnummers ontbreken. Welk getal krijg je als je de officiële rugnummers die deze spelers dragen bij hun eigen club (seizoen 2018-2019) bij elkaar optelt?



Antwoord: 86

Antwoord:



2. ROAJE MAR

2.3

Woord zoek

De onderstaande woorden missen een stukje. Per regel kan drie keer hetzelfde woord ingevuld worden. Welke woorden moeten dit zijn?

2.3.A

schijn dans/kapbaar Zonne beweging

2.3.B

Zieken boeg golf spriet

2.3.C

regel neef Stel zucht

2.3.D

glad akker Spiegel iool

2.3.E

cultuur barbaar verschijnsel Tegen

2.4

Goed gezegd

We hebben in onderstaande gezegdes de klinkers weggelaten. Welke spreekwoorden en/of gezegdes staan hieronder?

2.4.A

D knnkkl wg bwdln De koninklijke weg bewandelen

2.4.B

Vr gn kltj vrvd zn Voor geen kleintje vervaard zijn

2.4.C

Mt zt kmn ls ht .. p s Met zout komen als het ei op is

2.4.D

Dt s n wrhd ls n k Dat is een waarheid als een koe

2.4.E

Dt slt ls n tng p n vrkn Dat slaat als een tang op een varken



2.5 Kwartet

In de tas die jullie bij het boek hebben meegekregen, zitten kaarten die bij een kwartet horen. Probeer een kwartet compleet te krijgen door met andere teams te ruilen of te onderhandelen.

2.6 Roaje mar

Los onderstaande raadsels op.

2.6.A

Een aannemersbedrijf restaureert een molen van 5 meter hoog. Elke dag wordt 3 meter gerestaureerd, maar blijkt twee meter toch niet stevig genoeg en moet meteen opnieuw. Na hoeveel dagen is de molen helemaal af?

3 dagen

2.6.B

Bij een paardenrace staan er honderd paarden aan de start. De organisatie wilde het niet te moeilijk maken en nummerde de paarden beginnend bij een tot en met honderd. Hoeveel negens hebben de nummers van al deze paarden samen?

20x

2.6.C

Op een groot meer drijft een varen. De varen verdubbelt dagelijks in oppervlak. Na precies twintig dagen is het meer volledig bedekt door de varen. Na hoeveel dagen is één vierde van het meer bedekt?

18 dagen

2.6.D

Hoeveel vierkanten telt een schaakbord (een schaakbord heeft 8 rijen en 8 kolommen)?

204 vierkanten

2.6.E

Maak een som waar het getal 19 uitkomt, met de getallen 1, 4, 5 en 7, door enkel gebruik te maken van de standaardbewerkingen (+ x / -) en haakjes.

$((7 - 1) \times 4) - 5$

2.7

Overeenkomsten

Eindhoven heeft er 3, Den Bosch heeft er 2, Breda heeft er 1 evenals Uden. Nuenen heeft er 2 en Helmond heeft er ook 1, Vorstenbosch heeft er geen.

Waar hebben we het over?

Michelin-sterren



2. ROAJE MAR

2.8

Geldkwestie

Deze vijf munt-en-biljetsoorten komen uit verschillende landen van over de hele wereld. Zoek uit waar ze vandaan komen en hoeveel het specifieke bedrag waard is in euro's (afronden op 2 cijfers achter de komma). Vul in wat de totaalwaarde in euro's is van de vijf bij elkaar opgeteld (afronden op 2 cijfers achter de komma)?

19.13





2. ROAJE MAR

2.9

Bier hier

De onderstaande 8 speciaalbiertjes bevatten verschillende percentages alcohol. Bekijk ze goed en zet ze op volgorde van sterkte. Begin met het biertje met het laagste alcoholpercentage en eindig met het biertje met het hoogste alcoholpercentage.

A



B



C



D



E



F



G



H



I



J



- 1: E Gulpener Korenwolf (5%)
- 2: F Palm (5.2%)
- 3: B Guinness (6%)
- 4: I Grimbergen Dubbel (6.5%)
- 5: C Grimbergen Blond (6.7%)
- 6: J Muifel IPA (7%)
- 7: G La Chouffe (8%)
- 8: A Kwak (8.4%)
- 9: H/D Duvel OF Comet (beiden 8.5%)
- 10: D/H Comet OF Duvel (beiden 8.5%)




2. ROAJE MAR

2.10

De weg kwijt

Weet jij uit het onderstaande doolhof te komen? Dan weet je vast ook welk nummer je krijgt als je de cijfers die je onderweg tegenkomt bij elkaar optelt!

Antwoord: 44





3. OP STROAT!

3.1

Diverse bewoners in Vorstenbosch hebben hun voortuin of voorgevel versierd met soms ware kunstwerken. Weet jij in welke straten onderstaande foto's zijn genomen?

3.1.A



Kattenberg

3.1.B



Liebrechtsplein

3.1.C



Peelstraat

3.1.D



Kapelstraat

3.1.E



Schoolstraat

3.1.F



Liebrechtsplein

3.1.G



Molenakkers

3.1.H



Heiveld

3.1.I



Telt niet mee

3.1.J



Rietdijk



3. OP STROAT!

3.2

Onderstaande teksten zijn ergens in Vorstenbosch te lezen, maar we hebben één woord verstopt. Vul het ontbrekende woord in:

3.2.A



aardse

3.2.B



scheppen

3.2.C



transactiebonnen

3.2.D



posuit

3.2.E



boven



3. OP STROAT!

3.3

Op onderstaande foto's is het straatnaambordje afgedekt. Laat één van de teamleden een selfie maken, met daarop duidelijk het juiste straatnaambordje. Sla de selfies op de meegeleverde USB-stick op. Geef iedere selfie de goede naam/code (b.v. 3.3.A selfie, 3.3.B selfie, etc.)

3.3.A



3.3.B



3.3.C



3.3.D



3.3.E



Antwoord: Iedere juiste selfie is xx punten



3. OP STROAT!

3.4

Je ziet hier enkele beroemde en drukbezochte straten in binnen- en buitenland. Noteer de straatnaam.

3.4.A



Kalverstraat

3.4.B



Hinthamerstraat

3.4.C



Avenue de Champs D'Elysee

3.4.D



Ramblas

3.4.E



Coolsingel



3. OP STROAT!

3.5

Het straatbeeld in Vorstenbosch is in de loop der jaren behoorlijk veranderd. Je ziet hieronder een aantal foto's van vroeger en een aantal foto's van nu die nagenoeg op dezelfde plaats zijn gemaakt. Combineer de juiste letter, met het juiste cijfer.

A



1



B



2



C



3



D



4



E



5





3. OP STROAT!

F



6



G



7



H



8



I



9



J



10



Antwoorden
(iedere goede combinatie xx punt)

A - 6
B - 9
C - 10

D - 8
E - 3
F - 1

G - 7
H - 5
I - 4

J - 2



3. OP STROAT!

3.6

Deze vraag zit verborgen onder een QR-code die ergens in het dorp hangt.

Hint: Daar waar het nieuwe domein van een oud-prins is, kun je de code vinden.

Antwoord: 12 stuks

3.7

Deze vraag zit verborgen onder een QR-code die ergens in het dorp hangt.

Hint: Kijk onder dit logo.



Antwoord: 22

3.8

Deze vraag zit verborgen onder een QR-code die ergens in het dorp hangt.

Hint: Kijk achter 13-2-1987

H 8.38 L 788

3.9

Deze vraag zit verborgen onder een QR-code die ergens in het dorp hangt.

Hint: daar waar het voormalig Gildehuis in 'rook' is opgegaan.

Antwoord: Per kabouterxx punt met maximaal xx punten.

3.10

Deze vraag zit verborgen onder een QR-code die ergens in het dorp hangt.

Hint: Ik sta hier binnen op de uitkijk.



Pisang - Sinas



4. MI DE MUZIEK MEE

4.1 Hieronder zie je bladmuziek. Ben jij muzikaal en kun je deze toonladders spelen en raden om welk lied het gaat?



4.1.A Naam lied: Deze vuist op deze vuist



4.1.B Naam lied: Fur Elise



4.1.C Naam lied: Bad Romance



4.1.D Naam lied: Kind van de duivel



4. MI DE MUZIEK MEE

4.2

We durven bijna te wedden, dat je een of meerdere instrumenten die hieronder staan afgebeeld, nog nooit hebt bespeeld. Weet je wel over welke instrumenten wij het hebben.

4.2.A



Cajon

4.2.B



Didgeridoo

4.2.C



Lure

4.2.D



Cwth

4.2.E



Nyckelharpa



4. MI DE MUZIEK MEE

4.3

Hieronder vind je drie van de meest iconische LP-hoezen allertijden. Maak een foto, waarop je een van deze hoezen zo creatief mogelijk uitbeeldt. Zet deze op de USB-stick onder de code/naam: '4.3 LP-hoes'

1



2



3



4.4

4.4.A

Afgelopen jaar was de 20e editie van de top 2000 op radio 2. In welk jaar maakte onderstaande opsomming deel uit van deze lijst. Om het moeilijk te maken is de ene keer de artiest weggelaten en de andere keer de titel.

1786 – Don't stop 'til you get enough

1387 – Pet Shop Boys

1028 – Show me the way

493 – Talk Talk

167 – Twilight Zone

Antwoord: 2008

4.4.B

Ongeveer een jaar geleden werd een auto de ruimte in gestuurd. Welke artiest was met welk nummer in deze auto te horen.

Antwoord: David Bowie – Space Oddity

4.4.C

Luister voor deze vraag om 19.15 uur naar Radio NOS TOS.

Antwoord: Barracuda en Project Manager

4.4.D

Bij het afhalen van het Quiz-boek was er een nummer te horen. Welk nummer was dit en welke artiest voerde het uit?

Antwoord: Bohemian Rhapsody Queen



4. MI DE MUZIEK MEE

4.4.E

Zanger Justin Timberlake was ooit betrokken bij een spraakmakend incident. Wie was hierbij nog meer betrokken en onder welke naam ging dit voorval de geschiedenis in.

Naam persoon: *Janet Jackson*

Naam incident: *Nipple-gate*

4.5

Het bezingen van de vrouwen is van alle tijden. Hieronder vind je afbeeldingen, die verwijzen naar de persoon die bezongen wordt, de tekst of een deel ervan, of de uitvoerende artiest. Weet jij om welke meisjes/vrouwennaam het gaat en door wie het gezongen werd.



4.5.A

Naam lied: *Lola*

4.5.B

Naam artiest: *The Kinks*



4.5.C

Naam lied: *Bonnie kom je buiten spelen*

4.5.D

Naam artiest: *Bonnie St. Claire*



4. MI DE MUZIEK MEE



4.5.E

Naam lied: *Sien*

4.5.F

Naam artiest: *Toon Hermans*



4.5.G

Naam lied: *Iris*

4.5.H

Naam artiest: *The goo goo dolls*



4.5.I

Naam lied: *Angie*

4.5.J

Naam artiest: *The Rolling Stones*



4. MI DE MUZIEK MEE

Ga voor onderstaande vragen naar: www.vorstenboschkwist.nl/geluiden-2019

4.6 Ieder lied heeft een ander ritme, sommige snel, sommige langzaam. Luister naar deze 5 vertraagde/versnelde nummers. Welk nummer, van welke artiest(en), hoor je? Noteer nummer én artiest.

4.6.A 4.6.A Bizzey ft Kraantje Pappie - Traag

4.6.B 4.6.B Cheat Codes x Kris Kros Amsterdam - Sex

4.6.C 4.6.C Abel - Onderweg

4.6.D 4.6.D Tiesto - BOOM!

4.6.E 4.6.E Youp van 't Hek - Flappie

4.7 De volgende nummers worden van achter naar voren gespeeld. Welk nummer, van welke artiest(en), hoor je? Noteer nummer én artiest.

4.7.A 4.7.A Love me just a little bit more - Dolly Dots

4.7.B 4.7.B Destiny - Headhunterz

4.7.C 4.7.C Bagagedrager - Gers Pardoel ft Sef

4.7.D 4.7.D Casanova - Ultimate Kaos

4.7.E 4.7.E Formidable - Stromae

4.8 In de tijd van TMF en MTV werden hele dagen muziekclips uitgezonden. Bekijk de volgende fragmenten welke zonder geluid worden afgespeeld. Welk nummer, van welke artiest(en), zie je? Noteer nummer én artiest.

4.8.A 4.8.A Rainbow in the Sky - DJ Paul Elstak

4.8.B 4.8.B Back for Good - Take That

4.8.C 4.8.C Nothing breaks like a Heart - Mark Ronson ft Miley Cyrus

4.8.D 4.8.D Huilen is voor jou te laat - Corry Konings en de Rekels

4.8.E 4.8.E Stap voor Stap - Kar Verhouzer & Sjaak



4. MI DE MUZIEK MEE

4.9 Nederlandse rap is helemaal hot. In de meeste van deze nummers wordt nogal wat straattaal gebruikt, soms gemixt met plaatselijk dialect. Wat betekenen onderstaande woorden?

4.9.A Merrie: Mercedes

4.9.B Stacks: (stapels) geld

4.9.C Kwappert: scooter

4.9.D Barkie: 100 euro

4.9.E Zwabber: lui aard / Nep Gabber

4.10 Nederland kent veel (internationaal bekende) DJ-s. Hieronder staan er vijf met hun echte naam genoemd, maar de klinkers zijn weggelaten. Wat is hun artiestennaam?

4.10.A jr dy vn stvn Jordy Dazz

4.10.B nkky vn jk Naughty Nik

4.10.C dn vn drvn Lady Dana

4.10.D dmnk ldzmrz grt dj Polska

4.10.E Mrc Vrkjln Marco V



5.1 Doktertje spelen

Veel mensen maken zich zorgen over hun banen nu de technologie steeds meer zijn opmars maakt in onze samenleving. Inmiddels is het de beurt aan huisartsen, nu cyberchonders zichzelf meer en meer diagnosticeren door middel van het internet. Zij denken dat ze aan een ernstige ziekte lijden wanneer ze hun symptomen opzoeken. Om te kijken hoe jullie het doen als internet-arts hebben wij onderstaande symptomen in willekeurige volgorde gezet. Bij deze symptomen horen vijf verschillende ziektebeelden. Aan jullie de taak de 5 ziektebeelden te vinden en aan de bijbehorende symptomen te koppelen.

Zwelling van weefsel - zichtbare blauwrood gekleurde zwelling -linker hersenhelft-gewrichtsslijtage-pijn aan de pols-moeilijk begrijpen -galbulten-taalstoornis- achteruitgang kraakbeen- -huiduitslag-niet de juiste woorden kunnen vinden-stijfheid- beknelling van zenuw-verergering van pijn bij temperatuurwisseling- doof gevoel -heftige jeuk-knobbels- pijn aan de vingertoppen-pijn in aanvallen-rode vlekjes op de huid.

	Naam ziektebeeld	Symptomen
5.1.A	AFASIE	Linker hersenhelft-taalstoornis-niet de juiste woorden kunnen vinden- moeilijk begrijpen
5.1.B	ARTROSE	Gewrichtsslijtage- achteruitgang kraakbeen-stijfheid-knobbels
5.1.C	CARPAAL TUNNELSYNDROOM	Pijn aan de polszwelling van weefsel- beknelling van zenuw- doof gevoel
5.1.D	GLOMUSTUMOR/ ANGIONEUROMA	Zichtbare blauwrood gekleurde zwelling- pijn aan de vingertoppen- verergering van pijn bij temperatuurwisseling- pijn in aanvallen
5.1.E	NETELROOS	Galbulten-huiduitslag-heftige jeuk-rode vlekjes op de huid



5. NOAR D'N DOKTER

5.2 Ziekenhuizen op TV

Ziekenhuizen en praktijken zijn al vaak het decor geweest van verschillende populaire series. Hieronder zie je afbeeldingen van zulke series. Weet jij welke we bedoelen?

5.2.A



Centraal Medisch Centrum

5.2.B



General Hospital

5.2.C



Emergency Room

5.2.D



Grey's Anatomy

5.2.E



Flying Doctor's

5.2.F



Trauma 24/7



5.2.G



De Co-assistent

5.2.H



House

5.2.I



Nurse Jackie

5.2.J



Dokter Deen

5.3

Save the date!

Over het bewaren van voedsel kunnen we veel discussies beginnen. Wij zijn nieuwgierig naar jullie voorraadkast. Vandaar dat wij jullie vragen om een product in te leveren dat zo ver mogelijk over de datum is.



5.4 Specialisaties

Hieronder staan 5 geneeskundige specialisaties door elkaar gehusseld. Kun jij er iets van maken?

5.4.A titifratsteerils *fertiliteitsarts*

5.4.B oncodierolong *endocrinoloog*

5.4.C rofoengol *nefroloog*

5.4.D radipeet *pediater*

5.4.E phaegoloto *hepatoloog*

5.5 Wie zoet is, krijgt lekkers

Hieronder staan drie recepten voor lekkernijen beschreven. Welke lekkernijen kunnen hiermee worden gemaakt?

5.5.A **250 gram bloem**
125 gram boter
75 gram kristalsuiker
7 gram gedroogde gist
30 ml melk
0.5 ei
125 ml siroop
100 gram bruine basterdsuiker
25 gram (room)boter
0.5 theelepel kaneelpoeder
Stroopwafel

5.5.B **125 ml water**
75 gram zoethout
1,5 theelepel stroop
0,25 theelepel salmiak
1 blaadje gelatine
1,5 theelepel bloem
Drop



5.5.C

1 ei
50 gram suiker
0,5 citroen
50 gram bloem
0,25 theelepel bakpoeder

Eierkoek

5.5.D

Welke van deze lekkernijen bevat de minste calorieën?

Eierkoek



5.6

Dorpszorg

In ons dorp werken veel mensen in de zorg. Hieronder staan 5 van deze helden afgebeeld. Wie zijn het en wat is hun beroep?

5.6.A



Naam Ans van Duijnhoven

Functie Radiodiagnostisch laborant/mbb'er

5.6.B



Naam Hetty Donkers

Functie (AOA) verpleegkundige

5.6.C



Naam Anoek Rovers

Functie Verpleegkundige IC

5.6.D



Naam Mark Smorenburg

Functie radioloog

5.6.E



Naam Joleine van Kessel

Functie doktersassistente poli longgeneeskunde



5.7

Luister voor deze vraag om 20.15 uur naar Radio NOS TOS.

Op al deze locaties is een AED-apparaat te vinden

5.8

Ziektebeeld

Smink het gezicht van één groepslid dusdanig dat hij er ernstig ziek of ernstig gewond uitziet. Maak vervolgens een foto en zet die op de meegeleverde USB-stick. Sla de foto op onder de naam/code '5.8. Schmink'

5.9

In de krant

In het volgende stukje tekst ontbreken een aantal belangrijke begrippen uit de medische wereld. Weet jij ze in te vullen?

Ziekten kunnen komen door(a) factoren, bijvoorbeeld cystic fibrose (taaislijmziekte) en hemofilie (bloederziekte). De ziekte van(b) en Huntington zijn voorbeelden van erfelijke aandoeningen, die pas op oudere leeftijd tot uiting komen. Andere afwijkingen komen door(c) factoren. Dit kan gaan om congenitale (.....(d)) afwijkingen door medicijngebruik of bestraling tijdens de(e).

Bij auto-immuunziekten richt de(f) zich tegen het eigen lichaam. Het immuunsysteem dat ziektekiemen hoort uit te schakelen maakt dan een fout en richt zich tegen lichaamseigen(g). Mogelijk ontstaan deze ziekten doordat een patiënt met een bepaald weefseltype een ziektekiem tegenkomt met dezelfde(h). Als het immuunsysteem dit micro-organisme dan aanvalt, beschadigt het helaas ook de eigen(i) van de patiënt. Gewoonlijk verlopen deze ziekten(j), omdat verkeerde afweerreactie aanhoudt.

59.A endogene

59.B Alzheimer

59.C exogene

59.D aangeboren

59.E zwangerschap

59.F afweer

59.G eiwitten

59.H antigenen

59.I weefsels

59.J chronisch



5.10

Dokter Bernhard

Wie kent het niet, het duet van Bonnie St-Claire en Ron Brandsteder 'Dokter Bernhard'? Maak een korte videoclip bij dit nummer (1 couplet, 1 refrein) en zet het op de USB-stick die je aan het einde van de avond inlevert met het quizboek. Sla de clip op onder de naam/code: '5.10 dokter Bernhard'



6.1

Wat is het antwoord op de vraag, gesteld in het geluidsfragment op www.vorstenboschkwist.nl/geluid-2019

De Vaalserberg

6.2

6.2.A

Je komt 2 vrienden uit een vriendengroep tegen. De kans is 50% dat ze beiden een rood shirt aan hebben. Hoeveel vrienden zitten er in de vriendengroep?

- A. 3
 - B. 4
 - C. 5
 - D. 6
- B

6.2.B

Een stok kaarten bestaat uit 52 kaarten. 13 harten, 13 ruiten, 13 schoppen en 13 klaveren. De kaarten worden goed geschud en worden vervolgens op hun kop op een tafel gelegd. Je mag 5 kaarten pakken. Hoeveel procent kans heb je dat het alle 5 harten zijn? (rond af op 4 cijfers achter de komma)

0.0495%

6.3

Hieronder zie je 2 formules. Wat zijn de namen van deze formules?

6.3.A

$$e^{i\pi} + 1 = 0$$

Identiteit van Euler

6.3.B

$$\hat{f}(\xi) = \int_{-\infty}^{\infty} f(x) e^{-2\pi i x \xi} dx,$$

de Fourier transformatie



6. GEZOND BOERENVERSTAND

6.4 Wij gebruiken allemaal het 10-cijferig stelsel als we gaan rekenen. In het "Land van Okt" is dit anders. Hier gebruiken ze namelijk een 8-cijferig stelsel. Reken de sommen uit volgens de rekenregels van het "Land van Okt".

6.4.A $53 \times 14 =$ 1004

6.4.B $21010 + 4601 =$ 25611

6.4.C $2260 : 620 =$ 3

6.4.D Wortel van 251 = 15

6.4.E $2322 - 352 =$ 1750

6.5 Twee vrachtwagens rijden op de snelweg, de vrachtwagen die rechts rijdt is 15 meter lang en rijdt 70 km/u. De vrachtwagen die links rijdt is ook 15 meter lang en rijdt 71 km/u. De links rijdende vrachtwagen start 5 meter achter de rechts rijdende vrachtwagen en wil pas weer naar rechts als hij 5 meter voor de rechts rijdende vrachtwagen rijdt. Hoeveel seconden duurt het voordat de links rijdende vrachtwagen naar rechts wil gaan? (rond af op hele seconden)

144 seconden



6.6

Op deze foto zie je een aantal belangrijke wetenschappers.



6.6.A

Hoe heet de 6e staande wetenschapper van links? Schrodinger

6.6.B

In welke categorie kreeg hij een nobelprijs? Natuurkunde

6.7

Albert Einstein en Hendrik Lorentz zitten samen aan een tafel. Einstein heeft een raadsel voor Lorentz. Hij heeft een getal met 5 verschillende cijfers (tussen de 0 en 9) in zijn hoofd. Twee van die cijfers zijn kwadraten, 2 zijn priemgetallen en het andere cijfer is geen van beide. Het 4e cijfer min het 2e cijfer is 6. Het 3e cijfer is 2x zo groot als het 5e cijfer. Het 5e cijfer plus 3 is het eerste cijfer. Wat is het getal dat Hendrik Lorentz moet vinden?

73894



6.8 Einstein was een beroemde wetenschapper. Wat weet jij over Einstein?

6.8.A Natuurlijk had Einstein altijd een mooi rapport.
Echter op de middelbare school had hij een onvoldoende op zijn rapport. Voor welk vak was dit?

Frans / Geschiedenis

6.8.B Einstein had ook enkele patenten op zijn naam staan. Onder andere voor een apparaat dat wij dagelijks gebruiken. Welk apparaat bedoelen we?

Een koelkast

6.8.C Einstein heeft een keer een toespraak in een Universiteit niet zelf gedaan. Wie verzorgde de toespraak in plaats van Einstein?

Zijn chauffeur

6.8.D Waar leerde Einstein zijn eerste vrouw kennen?

Op de Universiteit (klasgenoot)

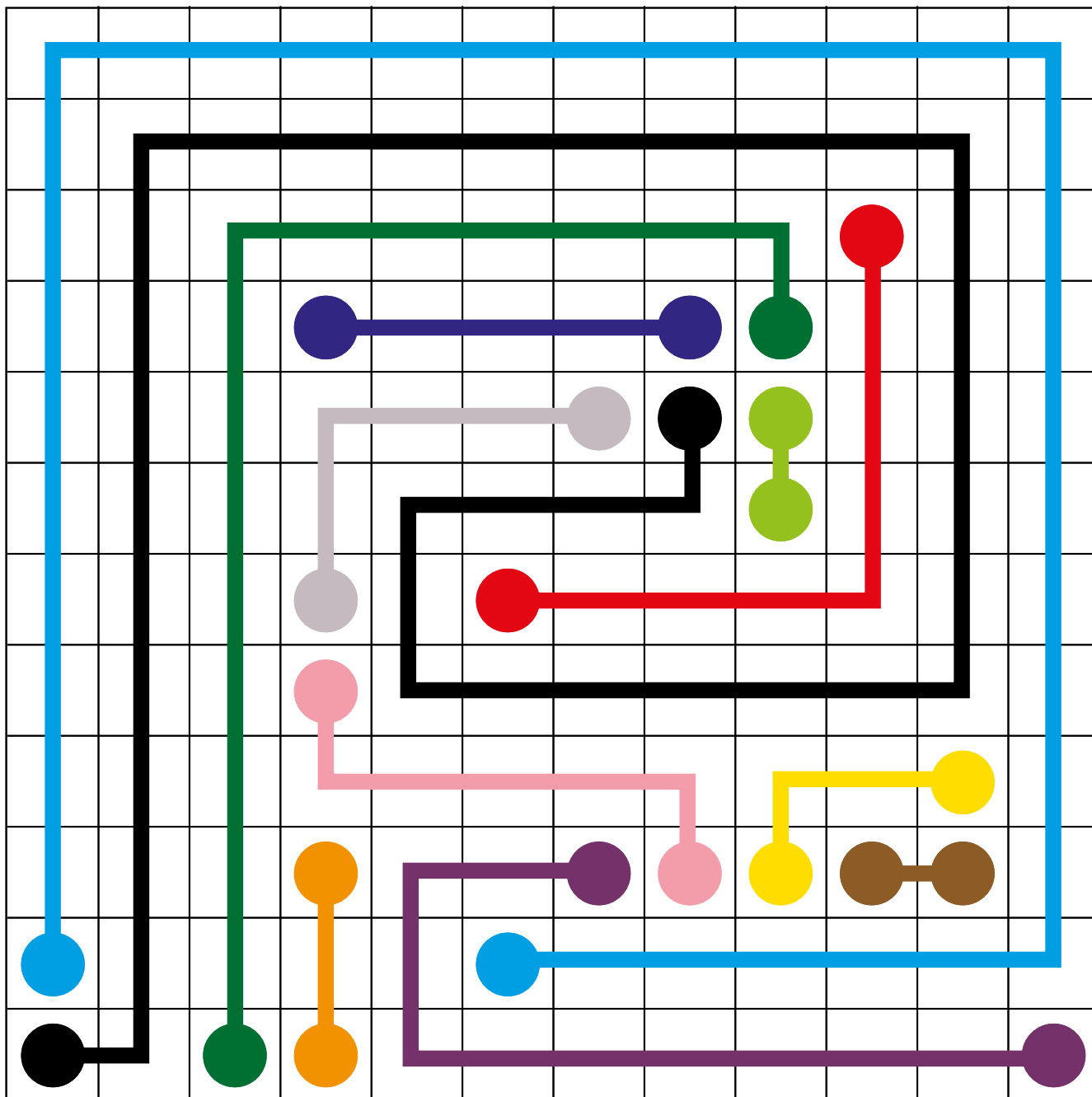
6.8.E Inmiddels zijn Albert Einstein en zijn directe familieleden overleden. Wat is de som van de jaartallen van overlijden van: Einstein + Einsteins tweede vrouw + Einsteins zoon die is overleden in een psychiatrische inrichting.

1955 + 1936 + 1965 = 5856



6. GEZOND BOERENVERSTAND

6.9 Verbind in onderstaande afbeelding alle gelijk gekleurde punten met elkaar zonder dat deze elkaar overlappen. In elk vierkantje mag maar 1 lijn lopen.



Goed = xx punten



6.10

Hieronder zie je een foto van een piramide die we gebouwd hebben. De piramide is geheel massief en bestaat uit vierkante stenen. Binnenin zitten geen geheime kamers. Uit hoeveel straatstenen bestaat deze piramide?

2030 stenen





7. ONS DURP

7.1

In Vorstenbosch staan enkele bijzondere bomen.
Vul hieronder het schema aan met de ontbrekende informatie.

Naam boom	Jaar van aanplanten	Plaats waar de boom staat
Oude Lindeboom	Ca. 1600	Heuvel 2
Julianaboom	1959	Bij Diks
Beatrixboom	1998	Bij de basisschool
Prinsenboom	1988	Mr. Loeffenplein
NCB boom	1998	Kerk

7.2

Het bedrijfspand aan de Kapelstraat, direct naast het kerkhof heeft onderdak geboden aan diverse bedrijven. Noem er 6.

Café-Zaal 't Trefpunt	't Dupke	Selektmail
Club Chez Arlette	Van Leur Brood en Banket	
Megens Brood en Banket	Fortasse	
Groente en fruit vd Biezen	LC Products / Megens	
	Vd Wetering / Vebreka / Monkey Bizz	

7.3

Luister voor deze vraag om 22.15 uur naar Radio NOSTOS.

Jong Nederland (Voorzitter)

7.4

Vorstenbosch telt vele kampioenen en andere hoogwaardigheidsbekleders. Wie was de allereerste in zijn of haar soort in Vorstenbosch?

7.4.A

Keizer van het gilde Toon v.d. Heijden

7.4.B

Biljartkampioen Ruud Sikkers

7.4.C

Beheerders van de kantine van de Vorstenbossche Boys Harrie en Sjan Geenen

7.4.D

Pastoor van Krieken

7.4.E

Voorzitter van de Vorstenbossche visclub Albert Dominicus



7.5

Een man heeft een hele rare fobie. Hij durft niet links af te slaan tijdens het rijden.

Hij staat met zijn auto bij de kerk met de neus richting de molen. Hij wil op de parkeerplaats komen van de Vorstenbosse boys. Hij mag alleen rechtdoor rijden en rechts afslaan. Ook mag hij niet keren. Wat is de kortste route om hier te komen? Schrijf de straten op.

Kerkstraat, Schoolstraat, Eggerlaan, Kapelstraat, Oude Veghelsedijk, De Helling, Kerkstraat, Heuvel, Akkerweg, Binnenveld, Sportpark.

7.6

Huizen in Vorstenbosch?

Hieronder zien jullie een aantal beschrijvingen van gebouwen in Vorstenbosch. Wij willen graag het huidige adres per pand weten.

7.6.A

Dit pand is gebouwd voor 1940. De bewoner die dit pand liet bouwen woonde al vanaf 1936 in Vorstenbosch. Vanaf 1940 is dit al een bedrijfspand.

Adres: Kerkstraat 13

7.6.B

Deze woning is gebouwd in 1931/1932. Rond 1967 werd het een constructiebedrijf met benzinepomp.

Adres: Kerkstraat 7

7.6.C

Deze boerderij is opgericht in 1869. De eerste bewoonster is overleden op 15-2-1886 te Vorstenbosch en werd 70 jaar oud. Omstreeks 1987 werd de boerderij in twee woondelen gesplitst.

Adres: Broekkant 8 en 10

7.6.D

Dit huis is gebouwd in 1884. Eén bewoner overlijdt al drie jaar later op 35-jarige leeftijd, en de andere bewoner raakt in een strafzaak verwickeld waarna hij zonder kinderen naar het buitenland vertrekt. 20 jaar later keert hij terug. De volgende bewoner koopt in 1887 het huis. In 1912 brandt deze woning af. In 1932 komt er een weduwnaar met zijn dochter wonen. De dochter trouwt met Mathijs en ze krijgen daar 6 kinderen. Na het overlijden van hun ouders wonen hier nog steeds een aantal van hun kinderen.

Adres: Kapelstraat 7

7.6.E

Rond het jaar 1850 is op deze plek een woning opgericht, in 1866 werd het huis verkocht. Deze nieuwe bewoner is fietsenmaker van beroep, zij beginnen hier een café met winkel en daarnaast een fietsenhandel. Hun dochter, die de woning overneemt, begint er later een kruidenierswinkel en achter in de schuur een timmerbedrijf. In 1955 wordt de oude woning vervangen door een nieuw burgerhuis met winkel.

Adres: Heuvel 9



7.7

Hier zie je een klassenfoto van Basisschool Op Weg.



7.7.A

In welk schooljaar is deze foto gemaakt?

1974-1975

7.7.B

Wat is de naam van de omcirkelde persoon?

Dirk-Jan Bilderbeek



7. ONS DURP

7.8 Bij deze vraag zijn de hoofden van vier Vorstenbossche mensen tot één hoofd gemaakt. Schrijf naast de compositie de namen van de juiste personen.

7.8.A



Linksboven Jan van Grunsven

Rechtsboven Maarten van Berkel

Linksonder Rob Vogels

Rechtsonder Bas Geenen

7.8.B



Linksboven Ans van Alebeek

Rechtsboven Els v.d. Berg

Linksonder Lindy Bergmans

Rechtsonder Annelies Aarts



7.9

Ook van de Vorstenbossche kinderen hebben we fotocomposities gemaakt.

7.9.A



Linksboven Enzo v.d. Elzen

Rechtsboven Guus v.d. Velden

Linksonder Mats Bijl

Rechtsonder Cas Geenen

7.9.B



Linksboven Puk van Heeswijk

Rechtsboven Sien v.d. Wijst

Linksonder Fem Dortmans

Rechtsonder Ise Bergmans

7.10

Speech

Iedereen doet vandaag zijn uiterste best om de enige echte Vorstenbossche kwis te winnen.

Aangezien de spanning op de uitslagavond om te snijden zal zijn, willen we jullie alvast helpen met de voorbereiding voor het geval je op het podium terecht komt. Jullie dienen een overwinningsspeech te schrijven van precies 150 woorden. Sla deze speech op in een WORD-bestand op de USB-stick onder de bestandsnaam '7.10 Speech'.



8.1 Pokémon was wereldwijd een grote rage onder kinderen. Hieronder omschrijven we 5 Pokémon die uit de eerste 2 seizoenen komen. Wat zijn de namen van deze Pokémon?

8.1.A De eerste Pokémon die we omschrijven is een Pokémon van het elektrische type. Deze Pokémon kan alleen evolueren als je een dondersteen (thunderstone) gebruikt. Hij ziet er uit als een hamster en heeft een staart als een bliksemschicht.

Pikachu

8.1.B Deze Pokémon is een watertype. Ash Ketchum heeft er in de serie ooit eentje gevangen maar heeft hem later in de serie weer vrij gelaten en naar zijn familie laten gaan. Het is een intelligente blauwe Pokémon die Ash vooral gebruikte als hij afstanden over water moest afleggen.

Lapras

8.1.C Dit is een Pokémon die goed bij de kerst zou passen. Hij is bruin en heeft hoeven. Deze Pokémon is niet geëvolueerd.

Stantler

8.1.D Deze Pokémon heeft meerdere persoonlijkheden. Het is een geëvolueerde Pokémon die op level 31 geëvolueerd is tot wie hij nu is. Deze Pokémon heeft geen vleugels maar wel veren.

Dodrio

8.1.E Deze geëvolueerde Pokémon heeft een blad voor zijn mond. Een lid van team Rocket heeft er 2 in zijn/haar bezit gehad. Uiteindelijk zijn de 2 Pokémon verliefd geworden en er samen vandoor gegaan.

Victreebel



8. VUR DE JONG

8.2

Hieronder hebben wij stukken staan van 5 verschillende gezelschapsspellen. Welke?

8.2.A



Game of Thrones

8.2.B



Carcassonne

8.2.C



Mollemania

8.2.D



Regenwormen uitbreiding

8.2.E



Biggen



8. VUR DE JONG

8.3 Veel kinderen kijken er naar uit om op zaterdagavond een lekker schaalpje chips te mogen eten. Iedereen had wel zijn favoriete merk. Jullie hebben 3 bekertjes gekregen met daarin 3 verschillende merken chips. Wij willen weten in welk bekertje welk merk zit.

8.3.A Lays zit in beker nr. _____ (xx punten)

8.3.B Crocky zit in beker nr. _____ (xx punten)

8.3.C Huismerk zit in beker nr. _____ (xx punten)

8.4 Hoe heten onderstaande bekende attracties?

8.4.A



Banshee

8.4.B



Cobra's curse

8.4.C



Formula Rossa

8.4.D



Viking ride

8.4.E



Villa Volta



8. VUR DE JONG

8.5 Tegenwoordig zie je steeds meer youtube challenges. Je had de “icebucket-challenge”, de “cinnamon-challenge” en de “try-not-to-laugh-challenge”. Jullie gaan zelf de “baby-shark-challenge” doen. Maak hier een zo origineel en leuk mogelijk filmpje van en zet dat op jullie USB-stick onder naam/code: “8.5 baby-shark-challenge”

(punten ter beoordeling aan de jury)

8.6 We zoeken een bekende muziekgroep. Deze groep deed 2x mee met een zelfde soort zangwedstrijd maar met een andere naam. Tussen deze 2 wedstrijden zat 10 jaar. Beide keren werden ze 11e. Hoe heet deze groep nu?

O'G3NE

8.7 Veel kinderen hebben een aantal jaar geleden mooie creaties gemaakt met Scoobie Doo touwtjes. Wij willen weten of jullie dat ook kunnen. Jullie hebben Scoubidou touwtjes gekregen (in de tas). Maak hiermee een Scoubidou in de vorm van een hart.

(punten ter beoordeling aan de jury)



8.8 Uit welke kinderseries komen onderstaande huizen?

8.8.A



Courage the Cowardly Dog

8.8.B



Pieter Konijn

8.8.C



Het huis Anubis

8.8.D



Kikker & vriendjes

8.8.E



De Smurfen



8.9

Ga naar de website www.vorstenboschkwist.nl/kinderseries-2019

Hier vinden jullie een 5-tal geluidsfragmenten van kinderseries.

Van welke kinderseries zijn deze geluidsfragmenten?

8.9.A

Ed, Edd and Eddy

8.9.B

Ned's survival guide

8.9.C

Rug Rats / Ratjetoe

8.9.D

Teletubbies

8.9.E

Vrouwkje theelepels



8. VUR DE JONG

8.10

Niet alle karakters uit kinderseries waren even aardig. Hieronder hebben we 5 slechteriken staan. Wie zijn dit en uit welke serie komen ze? Noteer naam van slechterik én de serie.

8.10.A



De plaaggeest,

Bassie en Adriaan

8.10.B



Karbonkel,

Ik Mik Loreland

8.10.C



Zwieber de vos,

Dora

8.10.D



Dolf,

Alfred Jodocus Kwak

8.10.E



Gmork,

Never ending story



9.1

Het katholieke geloof is sterk vertegenwoordigd in Vorstenbosch. Vroeger zeker. In deze tijd zijn het uitzonderlingen die nog intreden als non. Uit één Vorstenbosch' gezin zijn 5 zussen non geworden.

Wat zijn de voornamen die zij kregen bij de geboorte en welke naam kregen ze nadat ze ingetreden waren?



Berta/zuster Serena,

Jaan/Servatia,

Stien/Augustien,

Riek/Henrita,

Mien/Lamberdien

9.2

Er was ook een gezin dat maar liefst 5 priesters voortbracht.

9.2.A

Welke familie? Familie van Kessel

9.2.B

Hoeveel van deze vijf zijn nu nog priester of tot hun dood priester gebleven?

Vier



9.3

Ons dorp kent het parochieblad, met daarin berichten over de kerk maar ook over het dorp. In welke week in 2018 stond onderstaande tekst?

Stichting Zorgvoorzieningen Vorstenbosch heeft bij de Rabobank Clubkas Campagne een heel mooi bedrag gescoord dankzij uw stem. Wij danken U voor uw stem

Week 42

9.4

Uit welk godsdienstig blad komt onderstaande tekst?

Wanneer zal God ingrijpen?


Binnenkort! Jezus sprak over de laatste dagen van een 'tijdperk'.

Die laatste dagen zouden te herkennen zijn aan een unieke combinatie van gebeurtenissen in de wereld, en een specifieke generatie mensen zou daar getuigen van zijn (Mattheüs 24:3-42)."

De Wachttorenen

9.5

Deze sticker zie je vaak op auto's. Het is een christelijk teken.



9.5.A

Hoe heet dit teken? Ichthus

9.5.B

Waarvan is deze naam samengesteld? Geef de Nederlandse woorden.

Jezus, Christus, Gods, zoon, redder

9.6

Onze parochie, St. Lambertus Vorstenbosch, bestond in 2000 150 jaar. Het programma voor het 150-jarig jubileum van de Parochie St. Lambertus Vorstenbosch werd voorbereid en georganiseerd door een jubileumcommissie van 6 personen. Uit welke mensen bestond deze commissie?

Nico van Etten, Gerard Nooijen, Joke van Os, Martin de Barbanson, Albert Dominicus, Theo Theunisz

9.7



De wereld telt veel uitdragers van het geloof. Hieronder staan een aantal foto's van geestelijken.
Wat is hun naam?

9.7.A



kardinaal Mariano Rampolla
del Tindaro

9.7.B



bisschop Hurkmans

9.7.C



imam Imad Enchassi

9.7.D



pastoor Groothuijse

9.7.E



paus Benedictus XV



9.8

De wereld is vele kerken en gebedsruimtes rijk.

Waar (noem stad of dorp) staan onderstaande kerken- gebedshuizen?

9.8.A



Breda

9.8.B



Uden

9.8.C



Dinther

9.8.D



Veghel

9.8.E



Antwerpen



9.9 Moslims MOETEN een aantal keren per dag bidden.
Bij elk gebed moet men bidden richting Mekka. Tijdens elk gebed moeten ze Raka´ah uitvoeren. Dit is het buigen en op knieën gaan voor Allah.

9.9.A Hoe vaak moeten ze per dag bidden.
Antwoord: vijf keer

9.9.B Hoe vaak moeten ze per gebed de Raka´ah uitvoeren?
Telt niet mee

9.9.C De moslims hebben 5 verplichtingen aan het geloof. Welke verplichtingen zijn dat?
-Belofte in het Arabisch
-5x bidden per dag
-zakka, betalen voor de armen
-Ramadan/vasten
-Bezoek aan Mekka

9.10 Siddharta Gautama, geboren in Lumbini¹, is een spiritueel leider op wiens leer het Boeddhisme is gebaseerd. Hij werd ook wel Gautama Boeddha genoemd. Volgens traditie was Gautama een prins. Zijn ouders zouden van verschillende wijzen te horen hebben gekregen dat hij OF een groot heerser zou worden OF dat hij alle aardse goederen zou verwerpen en verlichting zou bereiken. Omdat zijn vader natuurlijk voor zich zag dat zijn zoon een groots heerser zou worden omringde hij Gautama met het beste van het beste. Op zijn zestiende trouwde Gautama met Ya odhar . Zij was eveneens 16. Samen kregen zij een zoon.

Na 29 jaar binnen het paleis gewoond te hebben ging Gautama nadenken over het leven en wilde hij graag zien hoe het leven er buiten het paleis uit zag. Buiten de paleismuren zag hij dingen waar hij het bestaan niet van wist. Ziekte. Dood. Ouderdom. Tevens zag hij een monnik lopen. Er werd hem uitgelegd dat deze monnik vrijwillig al zijn bezittingen had opgegeven en dat hij zijn leven in eenvoud en gericht op spirituele ontwikkeling leefde. Niet lang daarna verliet Gautama zijn paleis, familie, vrouw en kind om te leven als monnik in de bossen van India.

In Benares ging hij in de leer bij Alara Kalama en Udaka Ramaputta, 2 zeer gerespecteerde en bekende meesters. Deze leer werd hem snel eigen maar toch vond hij nog geen oplossing voor het lijden wat hij voelde. Hij koos zijn eigen weg en er begon een periode van 6 jaar van zelfpijniging. Hij leefde alleen in de bossen, ver weg van alles, eten deed hij zeer weinig en dus werd hij zo mager dat hij dicht bij de dood kwam.

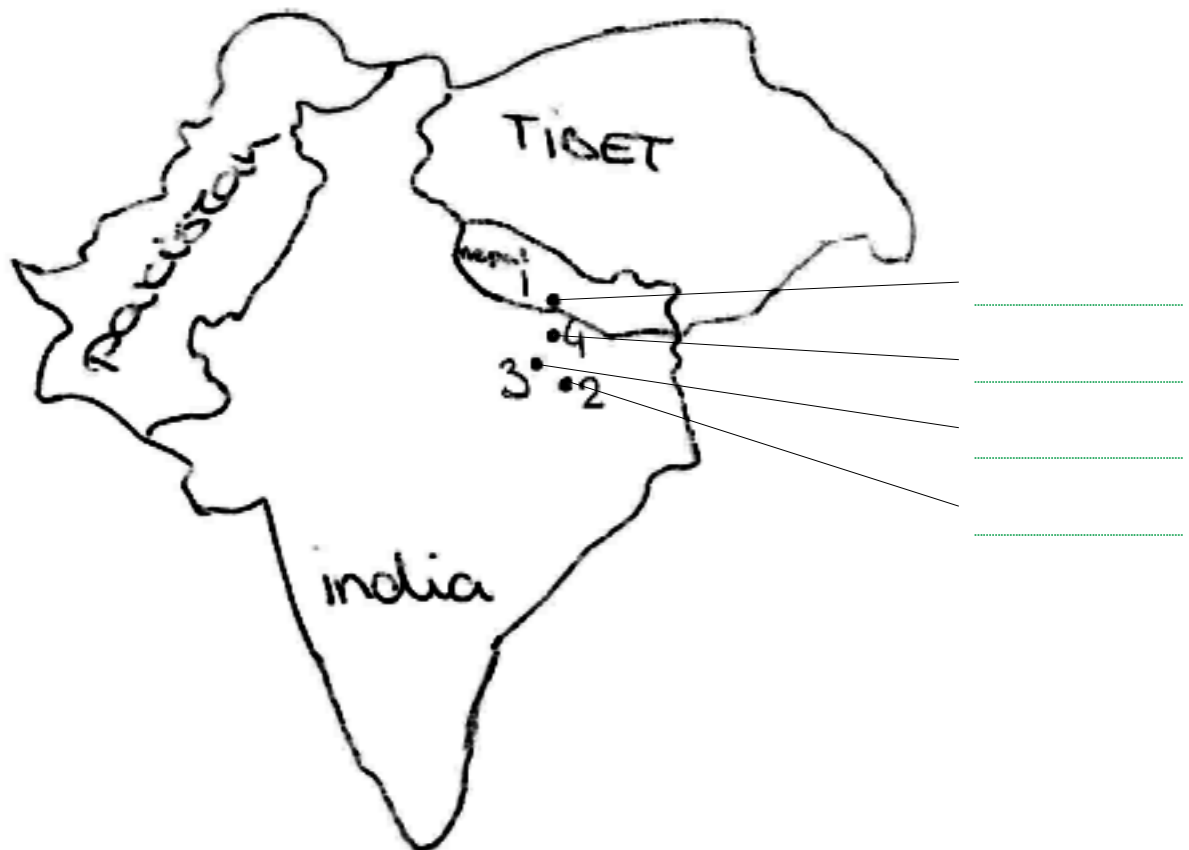
Na deze 6 jaar kwam hij tot het inzicht dat zelfpijniging hem ook niet ging brengen wat hij er van verwachtte.



9. GELEUF DE GIJ'T

Hij besloot aldus te gaan mediteren net zolang totdat hij volledig verlichting zou bereiken of tot hij zou sterven. Onder een Boom. In Bodh Gaya². Na 7 weken bereikte hij volledige en complete verlichting en vanaf dat moment was hij, op zijn 35e: de Boeddha. De titel Boeddha krijg je als je op eigen kracht, dus zonder leraar, de zogenoemde Dhamma ontdekt en verlichting bereikt. Boeddha begon wat hij geleerd had te onderwijzen aan anderen. De eerste keer dat hij dat deed was in het plaatsje Sarnath³. Vijfveertig jaar lang reisde hij door Noord-India en hij werd een zeer gerespecteerd spiritueel leider met vele discipelen onder alle lagen van de bevolking (zelfs twee koningen). Hij was 80 toen hij overleed⁴ in Kushinagar.

Vraag: In het verhaal lees je over Boeddha. Hierin staan 4 (heilige) plekken aangegeven waar jaarlijks Boeddhisten van over de hele wereld naartoe komen om zich dichterbij Boeddha te voelen. Hieronder staat een globale kaart van India en Nepal. Zet het juiste nummer bij de juiste stip op de kaart.



- 1 Geboorteplek Gautama Boeddha
- 2 Plek waar Gautama verlichting vond
- 3 Plek waar Gautama voor het eerst zijn leer verkondigde
- 4 Plek waar Gautama overleed.



10.1

Luister voor deze vraag om 23.15 uur naar Radio NOS TOS.

Antwoord: Heidi Timmers, Marieke Lakwijk, Ellen van der Ven

10.2

Ook in de nineties hebben er allerlei memorabele gebeurtenissen plaatsgevonden. Hieronder zie je afbeeldingen staan, die verwijzen naar zo'n gebeurtenis. Weet jij om welke gebeurtenis het gaat en wanneer deze plaats vond.



10.2.A

Gebeurtenis *Geboorte Dolly het gekloonde schaap*

10.2.B

Datum *5 juli 1996*



10.2.C

Gebeurtenis *Verongelukken prinses Diana*

10.2.D

Datum *31 augustus 1997*



10.2.E

Gebeurtenis *Vrijlating Nelson Mandela*

10.2.F

Datum *11 februari 1990*



10.2.G

Gebeurtenis *Start operatie Dessert Storm*

10.2.H

Datum *17 januari 1991*



10. DE JOARE NIGENTIG

10.3

MSN was erg populair in de 90's. Ken jij de afkortingen nog?

HJB (2 punten) Hou je bek / Heb je bier

KNZJ (2 punten) Kan niet zonder jou / Kan nooit zonder jou

BJEN (2 punten) Ben je er nog

HZVJ (2 punten) Hou zoveel van je / Hou zielsveel van je

JKMN (2 punten) Je kent me niet / Je kan me negeren

10.4

In de nineties was het mogelijk om een modern muzikje als ringtone op je mobiele telefoon te hebben. Helemaal hip en te gek toen, tegenwoordig heel normaal. Deze ringtone moest je echter wel zelf invoeren. Hieronder vind je enkele codes. Welke artiesten en liedjes horen hier bij?

Code (Tempo = 112)

1 # 5 # 4 # 32 # 1 # 080881 # 081 # 081 # 5 # 4 # 32 # 1 # 080881 # 081 # 081 # 5 # 4 # 32 # 1 # 080881 # 081 # 081 # 5 # 4 # 32 # 1 # 080881 # 081 #

10.4.A

Artiest *Limp Bizkit*

Swedish House Maffia

10.4.B

Lied *Rollin'*

One

Code (Tempo = 225)

29* 28 2 29 28 2 (7) 9** 28* (1)9# 68** 29* 28 7** 29* 28 2 (7)9** 28* (1)9# 68** (6)9* 488# 3 2 3 499# 48# (5) (3) 2 (1)# (2) 3 3 499# 68** 68* 6 59 488# 5 (6)99 68** 29* 28 2 29 28 2 (7)9** 28* (1)9# 68** 29* 28 7** 29* 28 2 (7)9** 28* (1)9# 68** (6)9* 488# 3 2 3 499# 48# (5) (3) 2 (1)# (2) 3 3 499# 68** 68* 6 59 488#5 (6)99 68**

10.4.C

Artiest *Atomic Kitten*

Blondie

10.4.D

Lied *The Tide is High*



10. DE JOARE NIGENTIG

Code (Tempo = 125)

58* 48 59 48 59 48 59 48 59 48 59 48 59 48 59 (5) 499 688** (6)9*# (5)# 58 48 59 48 59
48 59 48 59 48 59 48 59 48 59 (5) 499 688** (6)9*# (5)# 68** 28*# 29# (6)# 28# 29# (6)#
28# 29# (6)# 28# 29# (6)# 28# 29# 69# (5)8# (5) (4) 5 48 59 48 59 48 59 48 59 48 59 48 59
48 59 (5) 499 688** (5)9*# (5)

10.4.E Artiest *Avril Lavigne*

10.4.F Lied *Complicated*

10.5 Onderstaand speelgoed was erg populair in de 90's. Weet jij de naam nog?

10.5.A



Furby

10.5.B



Flippo

10.5.C



Trollen

10.5.D



Gameboy

10.5.E




Tamagochi



10.6

Welke populaire kinderhelden uit de jaren negentig zie je hier.
Noem de namen van onderstaande karakters. Ken je ze allemaal?



10.6.A

Naam Boes

10.6.B

Naam Teddy Ruxpin

10.6.C

Naam Bries

10.6.D

Naam Stimpy

10.6.E

Naam Semafoor

10.6.F

Naam Brandon Walsh

10.6.G

Naam Joe Tribbiani

10.6.H

Naam Pingu

10.6.I

Naam Henk de Mol

10.6.J

Naam Whizzy



10.7

Het Vorstenbosch 'kwist team bestaat uit 11 personen.
Iedereen van hen heeft wel een speciale datum in de 90's.

Maak hieronder de goede combinatie van naam, gebeurtenis en datum

Max	Geboortedag	16/01/1990
Sylvia	Trouwdag	14/2/1996
William	Verkering gekregen	31/12/1995
Inge	geboorte zoon	3/07/1998
Clemens	Verkering gekregen	1/04/1997

Max geboorte zoon 31/12/1995

Sylvia verkering 1/4/1997

William verkering 14/2/1996

Clemens trouwdag 3/7/98

Inge geboortedag 16/01/1990

10.8

In dit decennium kwam de mobiele telefonie echt op gang. Hieronder enkele vragen over de telefoons en fabrikanten uit die tijd.

10.8.A

Onder welke naam was onderstaand apparaat bekend? Beeper of Buzzer of Semafoon



10.8.B

Welke telefoon werd vernoemd naar een bekende poppenfiguur? Naam telefoon: Kermit

10.8.C

Voor welk telefoonmerk was een schilderij van Michelangelo een inspiratiebron?

Merksnaam: Nokia



10.8.D

Van welk merk is dit deel van het logo? Merknaam: Motorola



10.8.E

Wat is de merk- en typenaam van deze telefoon? Naam: Siemens S6



10.9

Uit welke populaire series komen onderstaande foto's?

10.9.A



Friends

10.9.B



Sex and the City

10.9.C



Will and Grace

10.9.D



Beverly Hills 90210

10.9.E



Fresh Prince of Bell Air



Ga voor onderstaande vragen naar: www.vorstenboschkwist.nl/reclame-2019

10.10 Tussen de programma's door op tv zien we vele reclames. Ook in de jaren negentig waren er alle mooie spotjes te zien. Op www.vorstenboschkwist.nl kun je vijf geluidsfragmenten van reclamespotjes horen. Voor welk merk wordt hier reclame gemaakt?

10.10.A *Energiebedrijf*

10.10.B *Melkunie*

10.10.C *Omo*

10.10.D *Reaal*

10.10.E *Rolo*



11.1 Aan de lopende band

Zorg dat om uiterlijk 19.00 uur één persoon van jullie team zich meldt in de foyer van De Stuik. Te laat is pech! Neem de juiste voucher van de volgende pagina mee. Dit is je entreebewijs! Zonder voucher geen toegang! Neem ook zelf een pen mee.

11.2 Kom pak je lasso maar

Zorg dat om uiterlijk 21.00 uur 1 persoon van jullie team zich meldt bij het paard op de paal, achter manege L'Avenir. Te laat is pech! Neem de juiste voucher van de volgende pagina mee. Dit is je entreebewijs! Zonder voucher geen toegang!

11.3 Hoe mooi kun je zijn? (let op, extra punten!!!)

Schmink en verkleed één lid van jullie team als een enorm fraai uitgedoste Dragqueen. Zorg dat deze Dragqueen zich (samen met twee begeleiders m/v) om 22.15 uur meldt in de foyer van De Stuik. Te laat is pech! Neem de juiste voucher van de volgende pagina mee. Dit is je entreebewijs! Zonder voucher geen toegang!

Ter inspiratie





11.1

Aan de lopende band

- | | |
|----------|----------|
| 1. | 11. |
| 2. | 12. |
| 3. | 13. |
| 4. | 14. |
| 5. | 15. |
| 6. | 16. |
| 7. | 17. |
| 8. | 18. |
| 9. | 19. |
| 10. | 20. |

Groepsnummer



11.2

Kom pak je lasso maar

1.
2.
3.
4.
5.
6.
7.
8.
9.
10.

Groepsnummer



11.3

Hoe mooi kun je zijn?

1.
2.
3.
4.
5.
6.
7.
8.
9.
10.

Groepsnummer



SPONSOREN

Bedankt





Als je dit volledig invult ontvang je 5 bonuspunten!

Voor de organisatie van de volgende Vorstenbosch 'kwist hebben we graag jullie mening over deze kwis. Graag omcirkelen wat het beste van toepassing is. (0 = slecht 5 = goed) Op de lijntjes kun je eventueel een korte toelichting geven.

Wat vond je van de variatie in categorieën en vragen?

0 1 2 3 4 5

Wat vond je van de moeilijkheidsgraad van de vragen?

0 1 2 3 4 5

Hoe beoordeel je in zijn algemeenheid de Vorstenbosch 'kwist?

0 1 2 3 4 5

Gaan jullie volgende keer weer meedoen met Vorstenbosch 'kwist?

Nee Waarschijnlijk Zeker wel

Verder nog suggesties of opmerkingen?

Feestavond

Verder willen we graag weten hoeveel personen we ongeveer van jullie team mogen ontvangen bij de prijsuitreiking op zaterdag 30 maart 2019. Deze vindt plaats bij de Stuik in Vorstenbosch. Aanvang 20.00 uur.

Aantal personen

VORSTENBOSCH 'KWIST



VORSTENBOSCH 'KWIST

EVALUATIE

Bedankt voor jullie medewerking, we hopen dat jullie een erg leuke, gezellige en leerzame avond hebben gehad.

Graag tot bij de prijsuitreiking!

De Vorstenbosch 'Kwist commissie

Max v.d. Berg, Clemens Geenen, Eric v.d. Wijst, Henny van Houtum, Sylvia v.d. Leest, Kitty Verstegen, Inge Bonnet, Doortje v.d. Heijden, Tom Huberts, Coen Jansen en William Verkuijlen.

**BEDANKT VOOR HET MEEDOEN
EN TOT VOLGEND JAAR**

